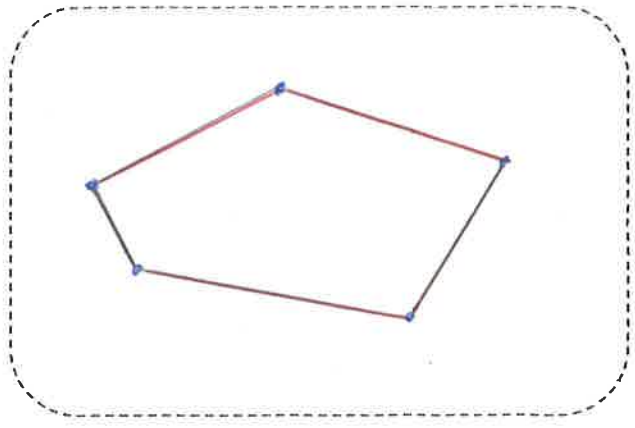


5 Complète les définitions suivantes.

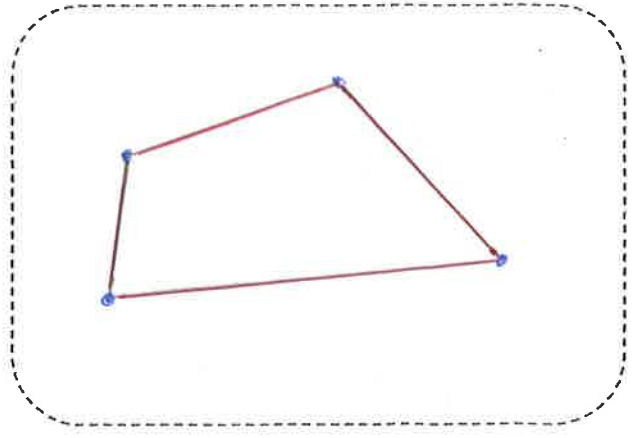
Un polygone avec 5 cotés est un *pentagone*
 Un polygone avec 3 sommets est un *triangle*
 Un polygone avec 4 cotés est un *quadrilatère*
 Un polygone avec 6 sommets est un *hexagone*

6 Construction :

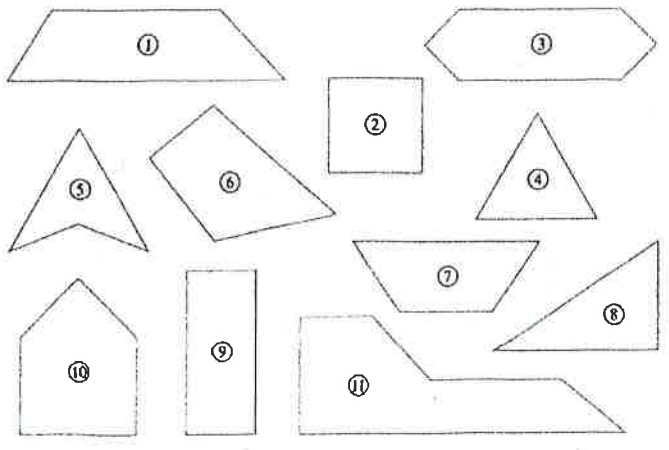
- 1-Trace un pentagone quelconque.
- 2- Repasse les côtés en rouge.
- 3- Entoure les sommets en bleu.



- 1-Trace un quadrilatère quelconque.
- 2- Repasse les côtés en rouge.
- 3- Entoure les sommets en bleu.



7 Complète le tableau suivant.



Quadrilatères	① ② ⑤ ⑥ ⑦ ⑨
pentagones	⑩
Hexagones	③ ⑪
triangles	④ ⑧