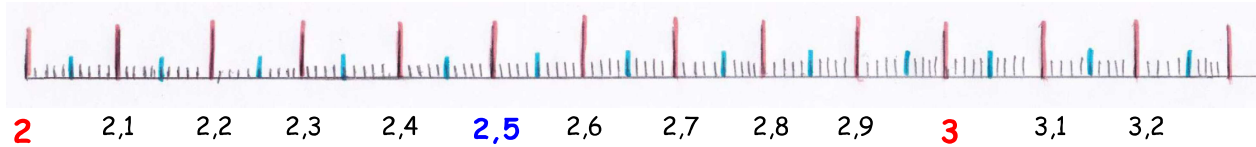


## Les nombres décimaux sur la droite numérique

bon courage !



Observe la droite numérique et place les nombres décimaux.



Place les nombres décimaux suivants :

$H = 2,58$

$I = 2,74$

$J = 2,48$

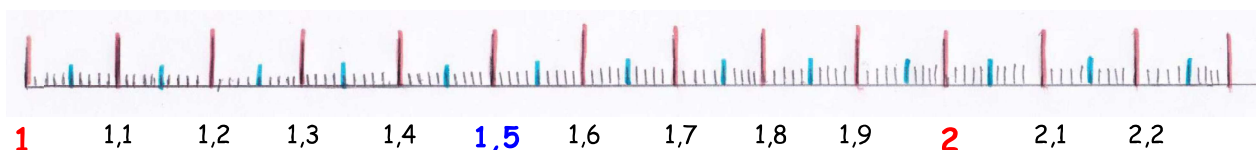
$L = 2,95$

## Les nombres décimaux sur la droite numérique

bon courage !



Observe la droite numérique et place les nombres décimaux.



Place les nombres décimaux suivants :

$H = 1,98$

$I = 1,91$

$J = 1,65$

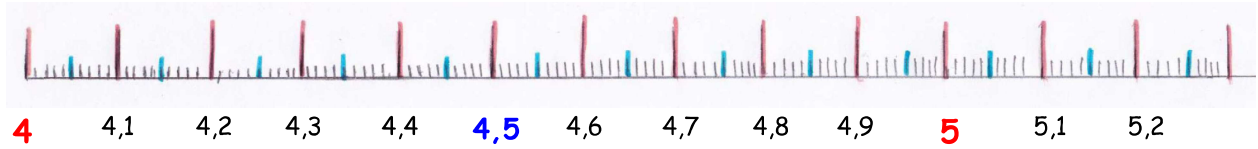
$L = 1,37$

## Les nombres décimaux sur la droite numérique

bon courage !



Observe la droite numérique et place les nombres décimaux.



Place les nombres décimaux suivants :

$H = 4,21$

$I = 4,14$

$J = 5,04$


$L = 4,56$

## Les nombres décimaux sur la droite numérique

bon courage !



Observe la droite numérique et place les nombres décimaux.



Place les nombres décimaux suivants :

$H = 8,56$

$I = 8,34$

$J = 8,91$

$L = 8,4$