



MESURE

Je m'exerce : le périmètre (1)

Objectif : Mesurer et calculer le périmètre de polygones

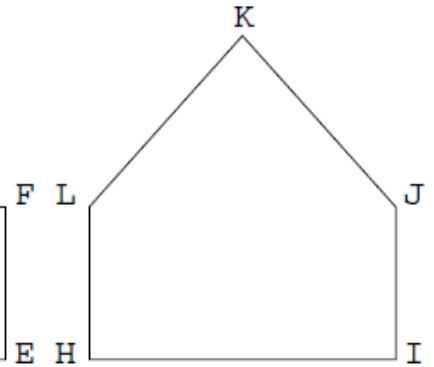
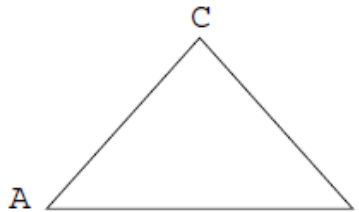
Exercice n°1

Mesure le périmètre de chacune des figures suivantes.

Le périmètre de ABC est égal à _____ cm.

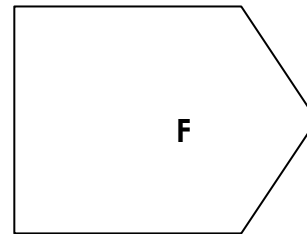
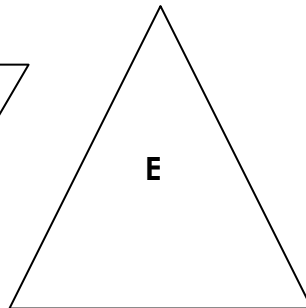
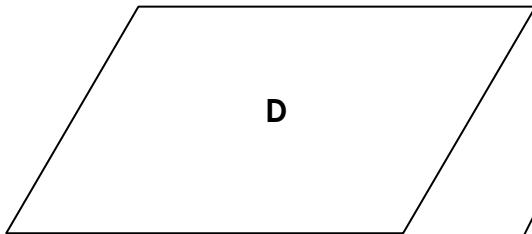
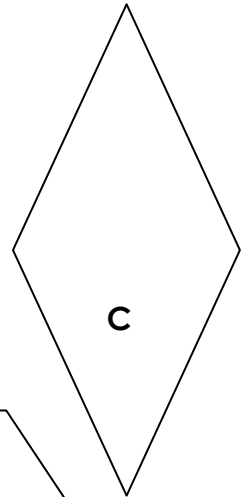
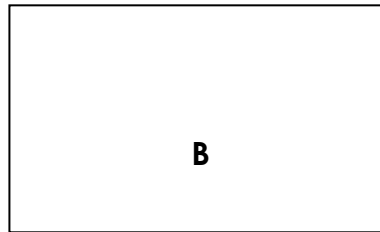
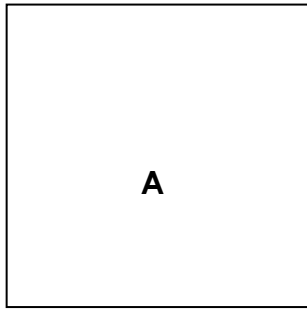
Le périmètre de DEFG est égal à _____ cm.

Le périmètre de HIJKL est égal à _____ cm.



Exercice n°2

Mesure chacun des côtés de ces figures et inscris-les à côté :



Périmètre de A :

Périmètre de B :

Périmètre de C :

Périmètre de D :

Périmètre de E :

Périmètre de F :

- Classe ces périmètres dans l'ordre décroissant :

.....

Devoirs du soir : *Mesure le périmètre de chacune des polygones.*

Polygone A

Polygone B

Polygone C

Polygone D



Le périmètre du polygone 1 est égal à _____ cm.

Le périmètre du polygone 2 est égal à _____ cm.

Le périmètre du polygone 3 est égal à _____ cm.


Devoirs du soir : *Mesure le périmètre de chacune des polygones.*

Polygone A

Polygone B

Polygone C

Polygone D



Le périmètre du polygone 1 est égal à _____ cm.

Le périmètre du polygone 2 est égal à _____ cm.

Le périmètre du polygone 3 est égal à _____ cm.