



Exercices sur le passé composé (auxiliaire avoir)

Prénom : Date :

Correction

Exercice 1

déraper :

- J' ai dérapé
- Tu as dérapé
- Il a dérapé
- Nous avons dérapé
- Vous avez dérapé
- Ils ont dérapé

mériter :

- J' ai mérité
- Tu as mérité
- Il a mérité
- Nous avons mérité
- Vous avez mérité
- Ils ont mérité

réciter :

- J' ai récité
- Tu as récité
- Il a récité
- Nous avons récité
- Vous avez récité
- Ils ont récité

Exercice 2

- a) Nous **avons** arrêté la course.
- b) Tu **as** consolé Margot.
- c) Ils **ont** désiré un rendez-vous.
- d) J'**ai** mesuré la fenêtre.
- e) Vous **avez** retiré les rideaux.
- f) Elle **a** dirigé une banque.

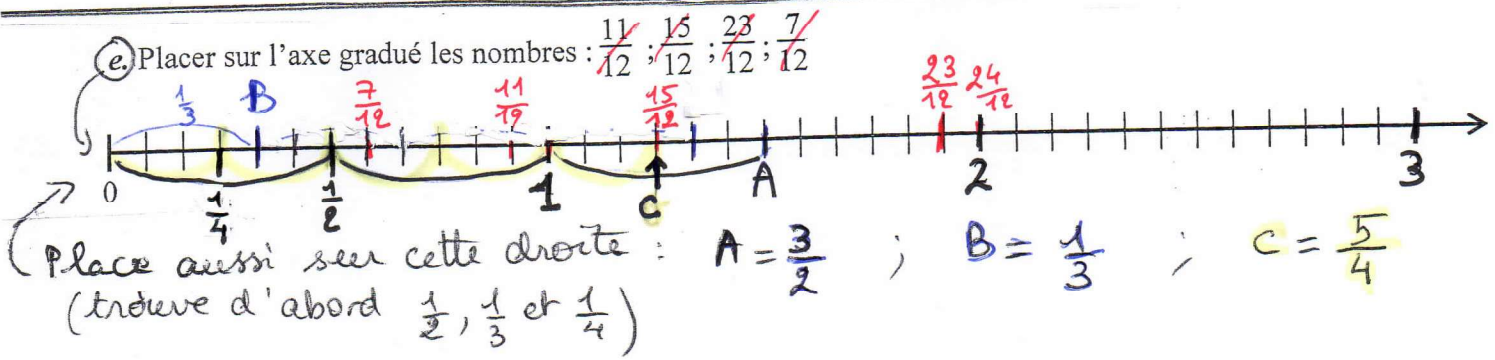
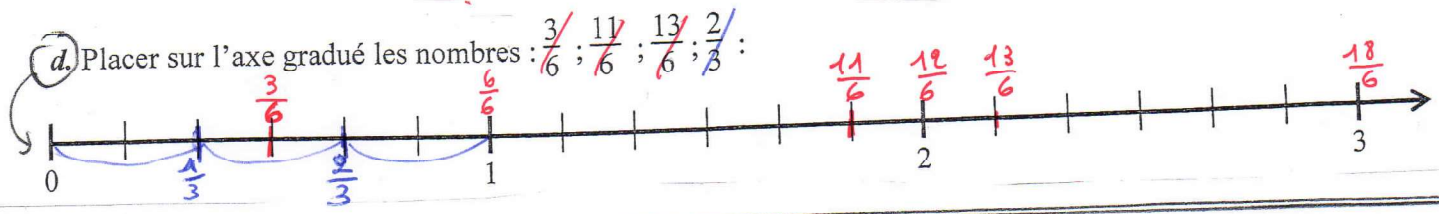
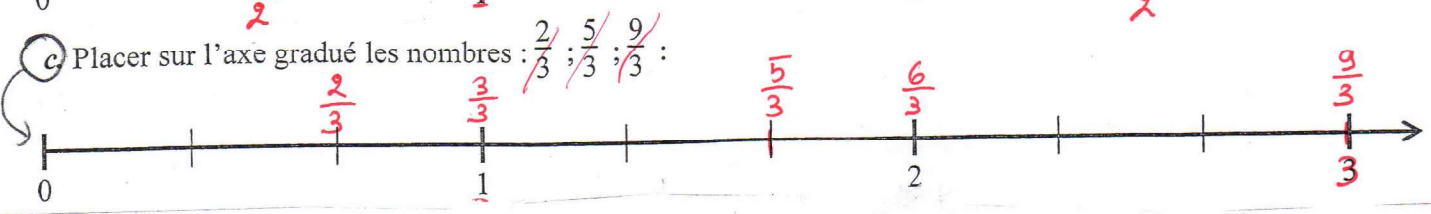
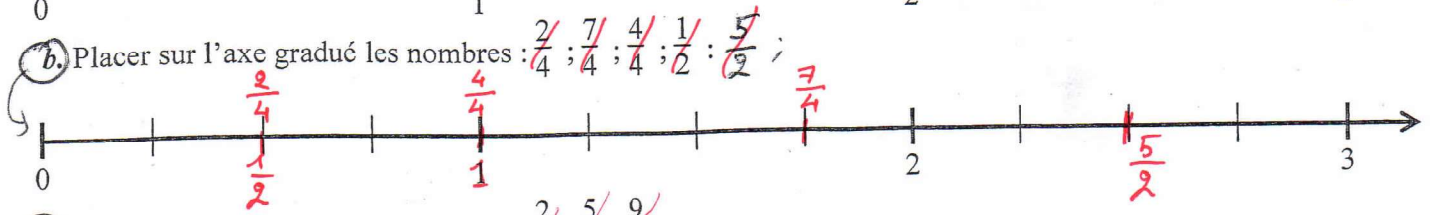
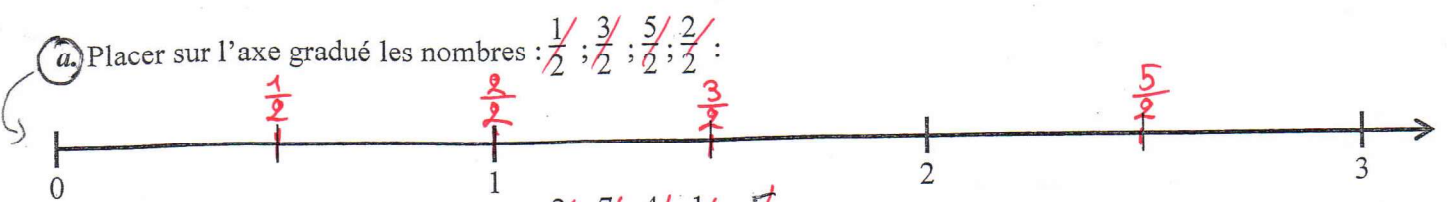
Exercice 3

- a) enfiler : vous avez enfilé
- b) hériter : tu as hérité
- c) diviser : j'ai divisé
- d) lessiver : nous avons lessivé
- e) imaginer : il a imaginé
- f) rassurer : elles ont rassuré
- g) reculer : vous avez reculé
- h) refuser : ils ont refusé
- i) picorer : tu as picoré
- j) piloter : j'ai piloté
- k) consolider : nous avons consolidé
- l) assurer : il a assuré
- m) dépasser : tu as dépassé
- n) galoper : ils ont galopé
- o) enlacer : vous avez enlacé
- p) inviter : j'ai invité
- q) évacuer : ils ont évacué
- r) manipuler : nous avons manipulé

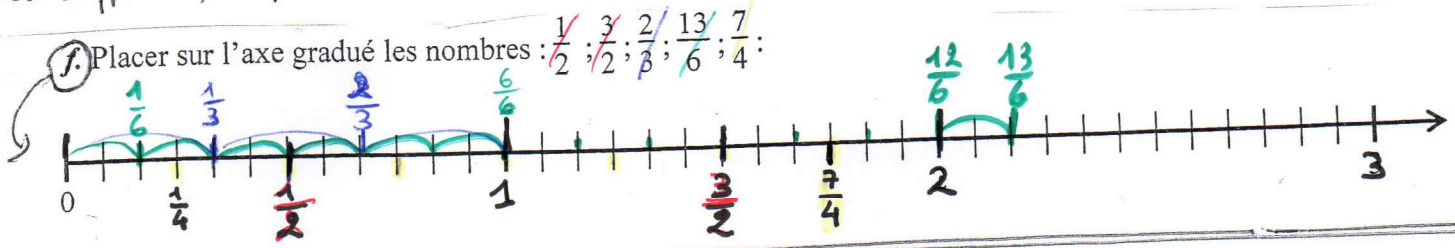
Exercice 4

- a) Ce chien a menacé les voleurs.
- b) Il a diffusé une fausse rumeur.
- c) Nous avons annulé notre voyage.
- d) J'ai allumé le feu.
- e) Vous avez cumulé des points.
- f) Il a mémorisé l'essentiel.
- g) Tu as recopié sur moi.
- h) Nous avons rincé la baignoire.
- i) Elles ont modifié le contrat.
- j) Tu as pédalé pendant une heure.
- k) L'ogre a dévoré un enfant.
- l) Vous avez dessiné un jardin.
- m) Nous avons collaboré ensemble.
- n) Elle a évalué ses élèves.


FRACTIONS



Plus difficile, réfléchis bien :



Dernier exercice :



A Place ces 6 fractions sur la droite graduée :

$\frac{8}{2}$; $\frac{7}{2}$; $\frac{11}{2}$ et $\frac{20}{4}$; $\frac{21}{4}$; $\frac{15}{4}$

B À quelle fraction correspond le repère a ? le repère b ? le repère c ?

$a = \frac{9}{2} = 4 + \frac{1}{2}$
 $b = \frac{23}{4} = 5 + \frac{3}{4}$
 $c = \frac{25}{4} = 6 + \frac{1}{4}$